

第三单元《确定位置》测试卷(西师版)

(时间:80 分钟 总分:100 分)

一、用心填一填。(每空 1 分,14 分)

- 1. 利用()可以简明、准确地表示物体在空间中的相对位置。
- 2. 如果房间第三排第四块地板砖用(3,4)表示,那么,
 - (1)第八排第六块地板砖用()表示。
 - (2)(7,2)表示第()排第()块瓷砖。
 - (3)(6,5)表示第()排第()块瓷砖。
 - (4)(5,6)表示第()排第()块瓷砖。
 - (5)(3,4)后面的那块用()表示。
 - (6)(3,4)前面的那块用()表示。
 - (7)(3,4)左面的那块用()表示。
 - (8)(3,4)右面的那块用()表示。
 - (9)(3,4)后面的第三块用()表示。
 - (10)(5,4)右面的第三块用()表示。

二、用数对表示各动物的位置:(每空 2 分,共 12 分)

第6行			小鸡			
第5行						小猪
第4行					小鸭	
第3行						
第2行		小狗				
第1行				小兔		小羊

第1列 第2列 第3列 第4列 第5列 第6列

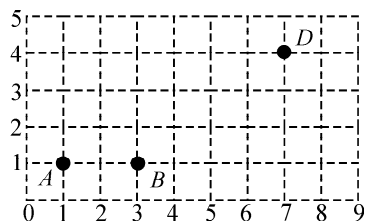
小狗的位置是();小鸡的位置是();小猪的位置是()。
小兔的位置是();小鸭的位置是();小羊的位置是()。

三、请你标出下面每个人的位置:(每题 2 分,共 16 分)

王红(2,5) 张欣(4,2) 赵倩(3,4) 李杜(5,3)
赵勇(5,4) 李伟(3,6) 王刚(7,4) 宋刚(6,5)

6													
5													
4													
3													
2													
1													
0	1	2	3	4	5	6	7	8	9	10	11	12	

四、填一填、标一标。(共 15 分)



1. 点 A 的位置可用数对()表示,点 B 的位置可用数对()表示,点 D 的位置可用数对()表示。(每空 1 分,共 3 分)


2. 点 C、E、F、G 的坐标分别是(1,3)、(3,3)、(6,3)、(9,5),请你在图中标出它们。

把 A、B、C、D 顺次连接是什么图形?(每点 1 分,答对图形 1 分,共 5 分)

3. 把 ABCD 连成的图形,向右平移一个格并出图形。(2 分)

4. 用★号标出可能是(5,x)的点。(每个 1 分,共 5 分)

五、下图是小明中卧室铺的地砖图(地砖有黑白两色)。(每空 1 分,共 11 分)



(1)从左下角起,用数对按顺时针方向表示角上的四块地砖的位置是()、()、()、()。

(2)正中间一块地砖所用的数对分别是()。

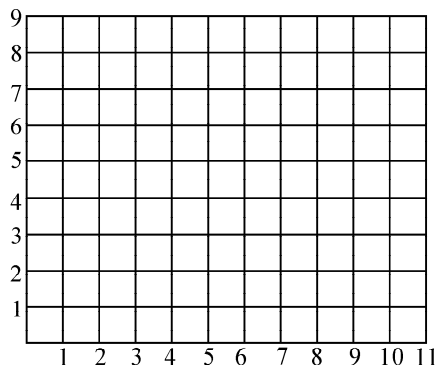
(3)数对(3,5)表示的是上面第()行第()块,这块地砖是()颜色的。

(4)数对(5,3)表示的是上面第()行第()块,这块地砖是()颜色的。

六、在下图中,按顺序将(6,3),(8,4),(8,6),(5,6),(4,4)各点用线连起来,并首尾相接,它表示水塘的范围。(共 14 分)

(1)在图上标出小宁家的位置(2,2),学校所在的位置(10,8)。(每题 2 分,共 4 分)

(2)画出小宁上学的路线(沿方格线),并标出经过地(方格点)的位置。(答案可多样)(每个方案 4 分,满分 8 分)



小宁家→(2,8)→(10,8)→学校。

七、下面是某校教学大楼的平面图,以层数为行,每层的教室为列,每一层为一个年级的 5 个班级。(共 18 分)

第 6 行	六(1)	六(2)	六(3)	六(4)	六(5)
第 5 行	五(1)	五(2)	五(3)	五(4)	五(5)
第 4 行	四(1)	四(2)	四(3)	四(4)	四(5)
第 3 行	三(1)	三(2)	三(3)	三(4)	三(5)
第 2 行	二(1)	二(2)	二(3)	二(4)	二(5)
第 1 行	一(1)	一(2)	一(3)	一(4)	一(5)
	第 1 列	第 2 列	第 3 列	第 4 列	第 5 列

(1)用数对表示二年级各班的位置。(5 分)

(2)某班的位置是(x,4),可能是哪几个班?(5 分)

(3)某班的位置是(4,x),可能是哪几个班?(6 分)

(4)用数对表示你所在年级的几个班的位置。(2 分)